



ESCOLA ADVENTISTA

UNIDADE - IBIÚNA

ROTEIRO 31 DE ESTUDOS – ENS. FUNDAMENTAL I - SEMANA: 23/11 A 27/11

**LINKS
AULAS
ONLINE:**

Turma da manhã

Segunda-feira: 9h20 às 11h40: <https://adventistas.zoom.us/j/84547641422?pwd=MWZYZGROM1VBTFheC9QY01VVXVhZz09>

Terça-feira: 9h20 às 11h40: <https://adventistas.zoom.us/j/83775425342?pwd=TGh2cXBFYkhpdXM4dFIQeUlqc3VEQT09>

Quarta-feira: 7h20 Cultura Geral (Pastor): <https://adventistas.zoom.us/j/84035809528?pwd=Y0krTIZHU0F6dW9zSTM1dFVIUDdCQOT09>

Quarta-feira: 9h20 às 11h20: <https://adventistas.zoom.us/j/81254342391?pwd=dFpEbDRCeWpuUkNRSTNjY3pNRVZkdz09>

Quinta-feira: 9h20 às 11h40: <https://adventistas.zoom.us/j/81670891243?pwd=WG5mTWZFRWo0T1ZsMHplNWk0RjB3QT09>

Sexta-feira: 9h20 às 11h20: <https://adventistas.zoom.us/j/88150286680?pwd=VG41MzZlSWdDNjRZQlpcR0ljdIB0dz09>

Turma da tarde

Segunda-feira: 13h às 15h20: <https://adventistas.zoom.us/j/84784940538?pwd=NnJ0OWdadGZsdTMydKQyQXJqMTRTUT09>

Terça-feira: 13h às 15h: <https://adventistas.zoom.us/j/82910492877?pwd=Q2EzdDhjTUVLVXpEbDN1V0tuZ0oxZz09>

Terça-feira: 16h Cultura Geral (Pastor): <https://adventistas.zoom.us/j/87670470404?pwd=a1YrVVJFTINjNS8yWnRtdIMyMHV3QT09>

Quarta-feira: 13h às 15h20: <https://adventistas.zoom.us/j/84531677272?pwd=ZlF6dWx3VE5SUUdmcmZqaUtv01QZz09>

Quinta-feira: 13h às 15h20: <https://adventistas.zoom.us/j/84734122837?pwd=OXVYOVplUWtVdzZrUEd4MEFTRG41dz09>

Sexta-feira: 13h às 15h: <https://adventistas.zoom.us/j/83241095457?pwd=dzZCcVVMmQ2SWV5ZGN0TzNTa0k1UT09>

SEGUNDA-FEIRA 23/11


TURMA: 3º ANO

AULA DO DIA	OBJETO DO CONHECIMENTO	ATIVIDADE	PROCEDIMENTO
AULA 1 E. RELIGIOSO	Revisão – Duelo de fé.	Livro de Ensino Religioso p. 64 e 65.	Assista ao vídeo: https://www.youtube.com/watch?v=pQtaRZA-C-Q Reveja as atividades propostas na p. 64 e 65. E depois conte essa história a um familiar.
AULA 2 L. PORTUGUESA	Revisão para a avaliação: Leitura e interpretação de texto; Tempos verbais; Onomatopeia.	Anexo 1 de Língua Portuguesa.	Realize o anexo 1 de Língua Portuguesa e anote suas dúvidas para conversar com sua professora durante a aula via Zoom. Aula via Zoom com a professora. Retomada de conteúdo.

AULA 3 L. PORTUGUESA	AVALIAÇÃO Leitura e interpretação de texto; Tempos verbais; Onomatopeia; Produção de texto.	AVALIAÇÃO DE LÍNGUA PORTUGUESA ONLINE.	Aula via Zoom com a professora. Realize a avaliação ONLINE durante a aula Zoom com o acompanhamento da professora. Link disponível no E-Class.
AULA 4 MATEMÁTICA	Revisão para a avaliação: Medidas de tempo.	Anexo 2 de Matemática.	Aula via Zoom com a professora. Realizar os exercícios propostos em anexo.
AULA 5 ARTE (Musicalização)	Ensaio para a “Cantata de Natal”.	Ensaiai música para a Cantata de Natal.	Assista ao vídeo: https://www.youtube.com/watch?v=e-0ypd_jcCU - Bebê Jesus. Aula via Zoom com o professor.

TERÇA-FEIRA 24/11			TURMA: 3º ANO
AULA DO DIA	OBJETO DO CONHECIMENTO	ATIVIDADE	PROCEDIMENTO
AULA 1 L. PORTUGUESA	AVALIAÇÃO DO PARADIDÁTICO: OS DINOSSAUROS E SUAS CURISIDADES.	AVALIAÇÃO DE LÍNGUA PORTUGUESA ONLINE.	Aula via Zoom com a professora. Realize a avaliação ONLINE durante a aula Zoom com o acompanhamento da professora. Link disponível no E-Class.
AULA 2 MATEMÁTICA	Revisão para a avaliação: Medidas de temperatura.	Anexo 3 de Matemática.	Aula via Zoom com a professora. Realizar os exercícios propostos em anexo.
AULA 3 INGLÊS	AVALIAÇÃO DE INGLÊS.	AVALIAÇÃO DE INGLÊS ONLINE.	Aula via Zoom com a professora. Realize a avaliação ONLINE durante a aula Zoom com o acompanhamento da professora.
AULA 4 HISTÓRIA	Revisão de conteúdo: As primeiras cidades brasileiras; As riquezas do Brasil colonial; Mercados antigos; Desigualdades sociais nas cidades; As cidades e a passagem do tempo.	Livro de História p. 59, 60, 61, 65, 66, 67, 71, 72 e 73.	Reveja a videoaula: https://www.youtube.com/watch?v=eajFYi96kys&feature=youtu.be Aula via Zoom com a professora. Realize a releitura dos textos e atividades propostas p. 59, 60, 61, 65, 66, 67, 71, 72 e 73.

AULA 5 GEOGRAFIA	Revisão de conteúdo: Onde estão as águas? As águas dos rios; Tipos de vegetação; Atividades extrativas.	Livro de Geografia p. 80, 81, 83, 84, 91, 94, 98, 99, 104, 105, 109 e 111.	Reveja as videoaula: https://www.youtube.com/watch?v=kKVkFdDgOml&feature=youtu.be - Onde estão as águas? https://www.youtube.com/watch?v=PK45ICQHaEc&feature=youtu.be - As ilhas. https://www.youtube.com/watch?v=ptTr1tofgFU&feature=youtu.be - Atividades extrativas. Aula via Zoom com a professora. Realize a releitura dos textos e atividades propostas na p. 80, 81, 83, 84, 91, 94, 98, 99, 104, 105, 109 e 111.
-----------------------------------	--	--	--

QUARTA-FEIRA 25/11 TURMA: 3º ANO			
AULA DO DIA	OBJETO DO CONHECIMENTO	ATIVIDADE	PROCEDIMENTO
AULA 1 L. PORTUGUESA	Projeto Ler é uma aventura.	Livro: A canção dos pássaros. 	Realize a leitura do livro e depois preencha a FICHA 35 do Ler é uma aventura. DIA DE ENTREGA DO LIVRO - LER É UMA AVENTURA NA ESCOLA.
AULA 2 GEOGRAFIA	AVALIAÇÃO Onde estão as águas? As águas dos rios; Tipos de vegetação; Atividades extrativas.	AVALIAÇÃO DE GEOGRAFIA ONLINE.	Aula via Zoom com a professora. Realize a avaliação ONLINE durante a aula Zoom com o acompanhamento da professora. Link disponível no E-Class.
AULA 3 MATEMÁTICA	Revisão para a avaliação: Medidas de massa e capacidade.	Anexo 4 de Matemática.	Aula via Zoom com a professora. Realizar os exercícios propostos em anexo.
AULA 4 HISTÓRIA	AVALIAÇÃO As primeiras cidades brasileiras; As riquezas do Brasil colonial; Mercados antigos; Desigualdades sociais nas cidades; As cidades e a passagem do tempo.	AVALIAÇÃO DE HISTÓRIA ONLINE.	Aula via Zoom com a professora. Realize a avaliação ONLINE durante a aula Zoom com o acompanhamento da professora. Link disponível no E-Class.

AULA 5 ED. FÍSICA	Aula online com o professor	Aula online. Turma da manhã quinta-feira Turma da tarde quarta-feira	Aula via Zoom com o (a) professor (a).
------------------------------------	-----------------------------	--	---

QUINTA-FEIRA 26/11			TURMA: 3º ANO
AULA DO DIA	OBJETO DO CONHECIMENTO	ATIVIDADE	PROCEDIMENTO
AULA 1 L. PORTUGUESA	Livro paradidático – Os dinossauros e suas curiosidades.	Livro paradidático p. 12, 13, 14, 15.	Realizar a releitura dos textos e fazer os exercícios propostos na p. 12, 13, 14, 15.
AULA 2 MATEMÁTICA	AVALIAÇÃO DE MATEMÁTICA Medidas de tempo; Medidas de temperatura; Medidas de massa; Medidas de capacidade; Orientações, vistas e projeções.	AVALIAÇÃO DE MATEMÁTICA ONLINE.	Aula via Zoom com a professora. Realize a avaliação ONLINE durante a aula Zoom com o acompanhamento da professora. Link disponível no E-Class.
AULA 3 CIÊNCIAS	Revisão de conteúdo: Solo e agricultura; Os alimentos e a Indústria.	Livro de Ciências p. 150 e 151.	Aula via Zoom com a professora Realize o “Agora é sua vez” na p.150 e 151 do livro de Ciências.
AULA 4 CIÊNCIAS	Revisão para a avaliação: Solo e agricultura; Alimentos industrializados.	Livro de Ciências p. 115, 118, 120, 121, 122, 123, 130, 131, 137, 138, 145.	Reveja as videoaulas: https://www.youtube.com/watch?v=ZX5KInnBmeA&feature=youtu.be - Solo e Agricultura https://www.youtube.com/watch?v=SAKyHOO7IT8&feature=youtu.be - Formas de conservação dos alimentos. Realize a releitura dos textos e atividades propostas na p. 115, 118, 120, 121, 122, 123, 130, 131, 137, 138, 145.
AULA 5 ARTE	AVALIAÇÃO DE ARTE Arte com sucata.	AVALIAÇÃO DE ARTE ONLINE.	Aula via Zoom com a professora. Realize a avaliação ONLINE durante a aula Zoom com o acompanhamento da professora. Link disponível no E-Class.

AULA DO DIA	OBJETO DO CONHECIMENTO	ATIVIDADE	PROCEDIMENTO
AULA 1 E. RELIGIOSO	AVALIAÇÃO DE ENSINO RELIGIOSO Nosso único Deus; Duelo de fé; Lugar de Adoração; Minha atitude de adoração; Jesus ensina reverência; Habilidades em ação; Juntos outra vez.	AVALIAÇÃO DE ENSINO RELIGIOSO ONLINE.	Aula via Zoom com a professora. Realize a avaliação ONLINE durante a aula Zoom com o acompanhamento da professora. Link disponível no E-Class.
AULA 2 CIÊNCIAS	AVALIAÇÃO DE CIÊNCIAS Solo e agricultura; Alimentos industrializados.	AVALIAÇÃO DE CIÊNCIAS ONLINE.	Aula via Zoom com a professora. Realize a avaliação ONLINE durante a aula Zoom com o acompanhamento da professora. Link disponível no E-Class.
AULA 3 MATEMÁTICA	Simetria em papel quadriculado.	Anexo 5 de Matemática.	Aula via Zoom com a professora. Realizar os exercícios propostos em anexo.
AULA 4 L. PORTUGUESA	Livro paradidático – Os dinossauros e suas curiosidades.	Livro paradidático p. 16, 17, 18, 19, 20 e 21.	Realizar a releitura dos textos e fazer as atividades propostas nas p. 17, 19 e 21.
AULA 5 CULTURA GERAL	Ensaio para a “Cantata de Natal”.	Ensaiai música para a cantata de natal.	Assista ao vídeo: https://www.youtube.com/watch?v=e-0ypd_jcCU - Bebê Jesus

Observação:

1. As Atividades e Trabalhos devem ser bem elaborados, seguindo os critérios estipulados acima.
2. As dúvidas poderão ser tiradas pelo e-mail ou pelo WhatsApp da Escola.
3. Os Arquivos estarão disponíveis no site da Escola, na plataforma da CPB, enviados por e-mail e através da linha de transmissão da Escola.
4. Site da Escola: ibiuna.ea.org.br
5. Portal CPB: cpbedu.me
6. E-mail da professora: fabiana.msilva@ucb.org.br
ellen.rezende@ucb.org.br

ANEXOS

Anexo 1 – LÍNGUA PORTUGUESA

Registre no caderno. **Segunda-feira 23/11**

Cabeçalho...

Para treinar ... (REALIZE NO CADERNO)

1) Observe o quadrinho e responda:



- a) Em ordem crescente, qual deles é apresentado uma onomatopeia?
() Quadrinho 1. () Quadrinho 2. () Quadrinho 3. () Nenhum quadrinho.
- b) O Armandinho falava de algo que estava congestionado, do que se tratava?
() Do trânsito. () Dos carros. () Do seu nariz. () Nenhuma das alternativas.
- c) Na tirinha a onomatopeia apresenta que som?
() Grito. () Bocejo. () Espiro. () Tosse.

2) Observe o quadro abaixo e complete as frases com o verbo adequado no tempo pretérito (passado).

LER	VIAJAR	COMER	CANTAR
-----	--------	-------	--------

- a) Gustavo _____ para Salvador.
b) O coral da escola _____ uma linda música.
c) Mariana _____ um livro inteiro ontem!
d) Luca _____ abacate com a sua mãe.

ANEXOS

Anexo 2 - Matemática

Registre no caderno. **Segunda-feira 23/11**

Cabeçalho...

Para treinar ... (REALIZE NO CADERNO)

1 – Isabel programou o relógio para despertar logo ao amanhecer, às 5 e meia, mas acordou antes e consultou o relógio. Veja ao lado a hora que o relógio marcava quando ele acordou.



a) Que hora o relógio marcava?

b) Quantas horas e minutos ainda faltavam para o alarme tocar?

c) Do instante em que acorda até o momento de sair de casa, Isabel gasta 40 minutos (isso para tomar banho, arrumar-se, tomar café e escovar os dentes). A que horas Isabel sai de casa?

Anexo 3 - Matemática

Registre no caderno. **Terça-feira 24/11**

Cabeçalho...

Para treinar ... (REALIZE NO CADERNO)

Responda:

1. Roberto está com febre. Veja a ilustração do termômetro que marca a temperatura dele. Este termômetro está marcando?



- 37 °C 39 °C 38.1 °C 38 °C

2. Observe o tempo previsto pela meteorologia em uma cidade.

24/07

SEXTA



ENCOBERTO

MÍNIMA **21°**

MÁXIMA **36°**

25/07

SÁBADO



ENSOLARADO

MÍNIMA **20°**

MÁXIMA **36°**

26/07

DOMINGO



ENCOBERTO

MÍNIMA **16°**

MÁXIMA **28°**

- a. Qual a temperatura prevista para o sábado?

- b. Em quantos graus a temperatura pode variar na sexta-feira?

Anexo 4 - Matemática

Registre no caderno. **Quarta-feira 25/11**

Cabeçalho...

Para treinar ... (REALIZE NO CADERNO)

MEDIDAS DE CAPACIDADE

Para medirmos o leite, a água, o óleo, o álcool, a gasolina e outros líquidos, usamos a unidade de capacidade chamada **litro**.

- A metade de **1 litro** chama-se **meio litro**.
- Um litro tem **2 meios litros**.

1) Veja o desenho e complete as frases:



- a) Patrícia coloca 1 litro de suco em garrafas de _____ litro.
- b) Se 1 litro tem _____ meios litros, 2 litros tem _____ meios litros.

2) Marque a resposta certa.



Estas garrafas, juntas, contêm:

- 2 litros
- 6 litros
- 3 litros

3) Observe as embalagens e responda:

a) Quantos litros há na embalagem de:

- refrigerante: _____ litros
- mel: _____ litro
- leite: _____ litro



Medindo a massa: O quilograma

O quilograma é uma unidade usada para medir a massa. Podemos medir a massa de um saco de tomates, por exemplo usando uma balança.



O símbolo de quilograma é Kg. Em 1 Kg, há 1000 g. Em 1 tonelada, há 1000 kg.



1. Observe a cena:



- a) Quantos quilos a freguesa vai levar ao todo? _____
- b) Qual o preço do quilo de qualquer alimento no sacolão? _____
- c) Quanto a freguesa vai pagar? _____

2. Observe que os 2 pratos da balança estão na mesma altura. Assim podemos dizer que o pacote de feijão tem 100g ou 1000g? _____




Anexo 5 - Matemática

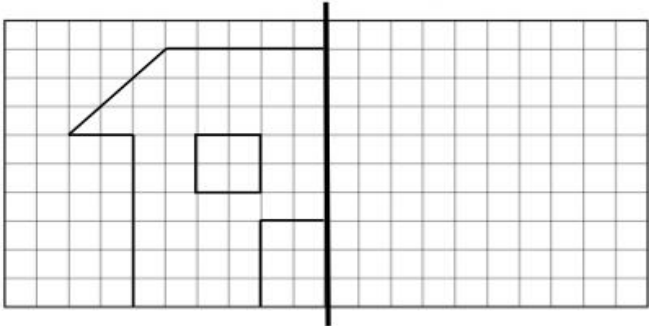
Registre no caderno. **Sexta-feira 27/11**


Cabeçalho...

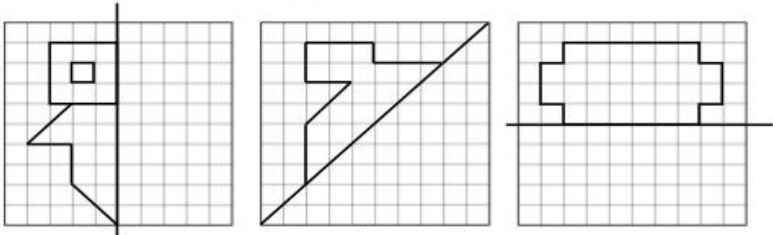
Para treinar... (REALIZE NO CADERNO)


Simetrias

 - Completa as figuras para que fiquem completas.




Eixo de simetria



 - Observa a figura. Desenha uma figura simétrica.

