

ATIVIDADE DE MATEMÁTICA (QUARTA-FEIRA)

1- Leia e indique as quantidades utilizando números.

Vinte e sete	
Trinta e oito	
Quarenta e nove	
Cinquenta e quatro	
Sessenta e dois	
Setenta e três	
Oitenta e um	
Noventa e quatro	
Cem	

2- Calcule (use o material dourado ou qualquer outro material) e responda:

O dobro de 10 maçãs: _____.

A metade de 12 estrelas: _____.

O dobro de 8 corações: _____.

A metade de 20 lápis: _____.

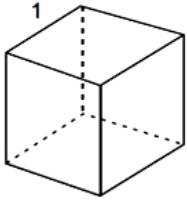
O dobro de 7 cadernos: _____.

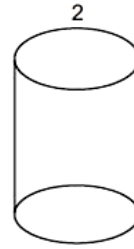
A metade de 18 folhas: _____.

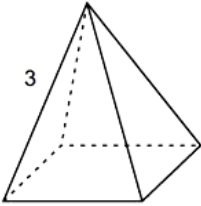
3- Desenhe um objeto que tenha forma de:

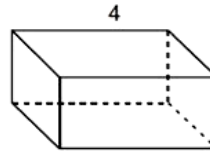
Cubo:	Cilindro:
Cone:	Esfera:

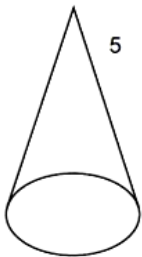
4- Escreva o nome das figuras geométricas espaciais abaixo.











4- Observe a pontuação dos alunos no jogo de matemática da classe e responda:

	Pontuação
Camila	28 pontos
Pedro	13 pontos
Vítor	16 pontos

a) Quantos pontos Camila tem a mais do que Vítor?

b) Juntos, quantos pontos têm Pedro e o Vítor?

c) Se Camila só tivesse a metade dos pontos que tem, quantos pontos ela teria?

ATIVIDADE DE MATEMÁTICA (SEXTA-FEIRA)

Resolva os desafios:

- a) **Ganhei 29 reais do papai. Comprei sorvete e um hambúrguer e fiquei com 7 reais. Quantos reais eu gastei?**

R: Eu gastei _____ reais.

D	U

- b) **Vítor comprou 26 bolinhas de gude, mas perdeu a metade. Quantas bolinhas de gude ele ainda tem?**

R: Vítor tem agora _____ bolinhas de gude.

- c) **Eu tinha 15 reais, mas fiz umas economias e agora eu tenho o dobro dessa quantia. Quantos reais eu tenho agora?**

R: Eu tenho _____ reais agora.

D	U

- d) **Marina ganhou 22 reais de presente de aniversário e sua irmã ganhou a metade desse valor.**

- **Quantos reais a irmã ganhou?** _____

- **Se juntar a quantidade de cada uma, quantos reais elas terão juntas?**

D	U

e) Samuel tinha 30 reais. Gastou a metade com materiais escolares. Quanto dinheiro sobrou?

--

R: Samuel tem agora _____ reais.

f) José colheu 15 pés de laranjas do pomar e algumas mexericas, totalizando 27 frutas. Quantas dessas frutas são mexericas?

D	U

R: _____ são mexericas.