

ATIVIDADE DE GEOGRAFIA (TERÇA-FEIRA)


1- Responda:

a) Explique para que servem os meios de transportes.

b) Escreva o nome dos meios de transportes a seguir e **marque X** nos que são possíveis de serem utilizados para levar os alunos de casa até a escola onde vocês estudam ou próximo dela.



_____ ()



_____ ()




_____ ()



_____ ()




_____ ()



_____ ()



_____ ()





_____ ()



_____ ()

2- Marque com X e escreva abaixo o nome dos brinquedos que podem ser utilizados como meio de transporte.



3- Complete a tabela escrevendo o nome de dois meios de transportes aéreos, terrestres e marítimos:


TERRESTRES	MARÍTIMOS	AÉREOS


ATIVIDADE DE GEOGRAFIA (SEXTA-FEIRA)

1- Escreva qual é a via ou o caminho utilizado para o deslocamento dos meios de transportes abaixo:

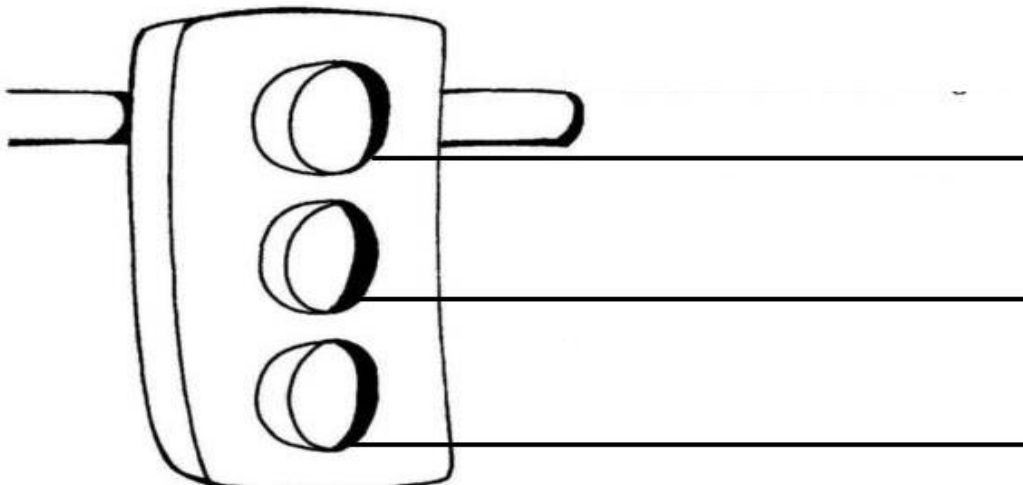








2- Pinte o semáforo com as cores corretas (de acordo com o que aparecem na sinaleira) e escreva o que cada uma delas significa.



3- Leia as frases e marque um X somente nas frases corretas.

- () Os pedestres devem atravessar na faixa de pedestre.
- () Os veículos devem andar quando o sinal estiver vermelho.
- () O semáforo dos veículos possui quatro cores.
- () Devemos sempre usar o cinto de segurança.
- () É importante obedecer às leis de trânsito.

4- As placas de trânsito têm formatos e cores diferentes e todas possuem um significado importante que, pode inclusive, ajudar a proteger a vida. Leia as palavras e ligue-as aos símbolos correspondentes.



Proibido estacionar
Ciclistas
Museu
Pronto socorro
Aeroporto

